



Trazar la mediatriz de AB.




Trazar la recta paralela a r por el punto A



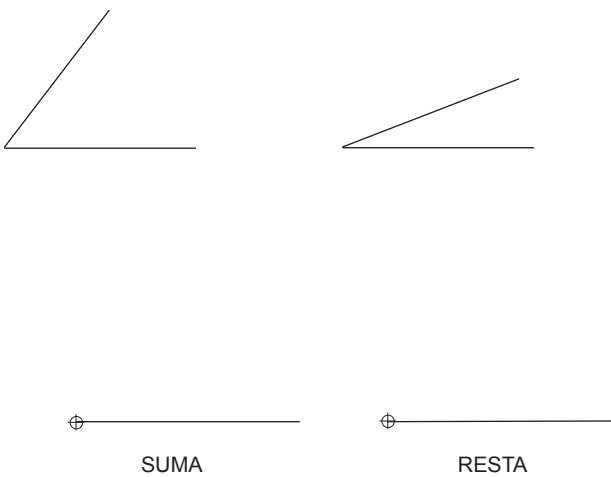
Trazar la recta perpendicular por el extremo A de la semirrecta.



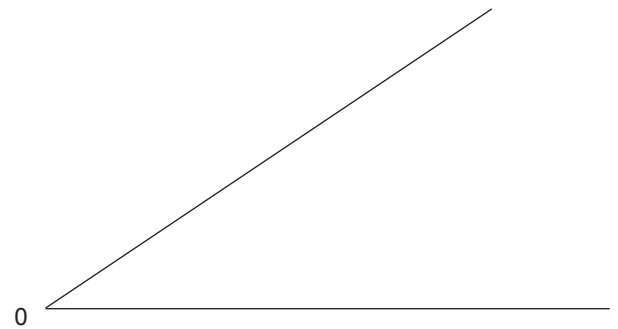
Dividir el segmento en 5 partes iguales. Teorema de Tales



Hallar el angulo resultado de sumar y de restar los dos dados



Trazar la bisectriz del ángulo dado



NOMBRE:

CURSO:

FECHA: